



ജില്ലയുടെ പേര് : ആലപ്പുഴ
ബി.ആർ.സിയുടെ പേര് : ചേർത്തല

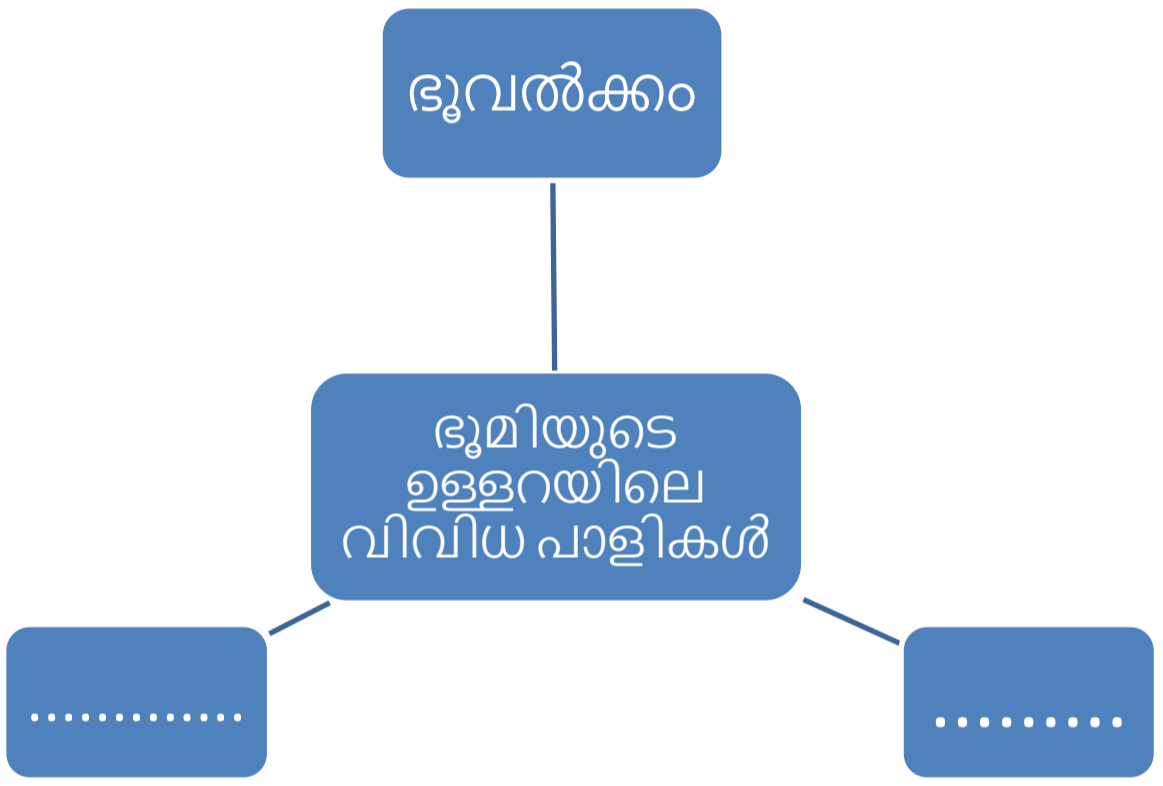
സ്റ്റാൻഡേർഡ് : 8
വിഷയം : സോഷ്യൽ സയൻസ്
യൂണിറ്റ് : 3
പാഠം : ഭാരത രഹസ്യങ്ങൾ തേടി
വർക്ക് ഷീറ്റ് നമ്പർ : 1

വൈറ്റ് ബോർഡ് ഷീറ്റ്

ആരംഭം

Worksheet : (Mild MR)

I പദസൂര്യൻ പൂർത്തീകരിക്കുക



(മാന്റിൽ, കാമ്പ്, അലൂമിന)



ജില്ലയുടെ പേര് : ആലപ്പുഴ
 ബി.ആർ.സിയുടെ പേര് : ചേർത്തല

സ്റ്റാൻഡേർഡ് : 8
 വിഷയം : സോഷ്യൽ സയൻസ്
 യൂണിറ്റ് : 3
 പാഠം : ഭൗമ രഹസ്യങ്ങൾ തേടി
 വർക്ക് ഷീറ്റ് നമ്പർ : 2


വൈറ്റ് ബോർഡ് ഷീറ്റ്

തുടർച്ച

Worksheet : MODERATE CATEGORY

I ഭൂമിയുടെ ഉള്ളറയിലെ വിവിധ പാളികൾക്ക് നിറം നൽകി പേരുകൾ കോപ്പി ചെയ്യുക

ഭൂവൽക്കം, മാന്റിൽ, കാമ്പ്





ജില്ലയുടെ പേര് : ആലപ്പുഴ
ബി.ആർ.സിയുടെ പേര് : ചേർത്തല

സ്റ്റാൻഡേർഡ് : 8
വിഷയം : സോഷ്യൽ സയൻസ്
യൂണിറ്റ് : 3
പാഠം : ഭൗമ രഹസ്യങ്ങൾ തേടി
വർക്ക് ഷീറ്റ് നമ്പർ : 3


വൈറ്റ് ബോർഡ് ഷീറ്റ്

തൂടർച്ച

Worksheet : SEVERE CATEGORY

I ഭൂമിയുടെ ഉള്ളറയിലെ വിവിധ പാളികൾക്ക് നിറം നൽകുക

ഭൂവൽക്കം, മാന്റിൽ, കാമ്പ്





ജില്ലയുടെ പേര് : ആലപ്പുഴ
ബി.ആർ.സിയുടെ പേര് : ചെർത്തല

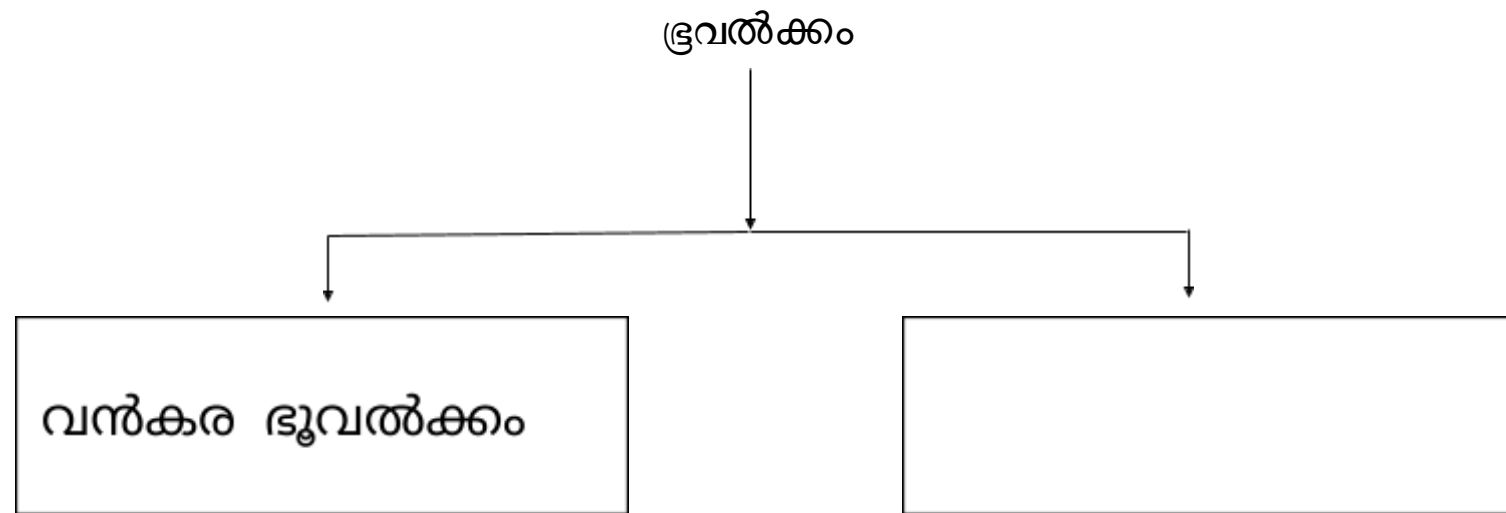
സ്റ്റാൻഡേർഡ് : 8
വിഷയം : സാമൂഹ്യ ശാസ്ത്രം
യൂണിറ്റ് : 3
പാഠം : ഭൗമ രഹസ്യങ്ങൾ തേടി
വർക്ക്ഷീറ്റ് നമ്പർ : 4

വൈറ്റ് ബോർഡ് ഷീറ്റ്

തുടർച്ച

CATEGORY(MILD)

ഘോഷാചാര്യ പൂർത്തിയാക്കാം



(ഉപരിമാന്ദ്യം, സമുദ്ര ഭൂവൽക്കം ,അകക്കാമ്പ്)



ജില്ലയുടെ പേര് : ആലപ്പുഴ
ബി.ആർ.സിയുടെ പേര് : ചേർത്തല

സ്റ്റാൻഡേർഡ് : 8
 വിഷയം : സോഷ്യൽ സയൻസ്
 യൂണിറ്റ് : 3
 പാഠം : ഭാരത രഹസ്യങ്ങൾ തേടി
 വർക്ക് ഷീറ്റ് നമ്പർ : 5

വൈറ്റ് ബോർഡ് ഷീറ്റ്

തുടർച്ച

I അനുയോജ്യമായവ തിരഞ്ഞെടുത്തു പൂരിപ്പിക്കുക.

(കായാന്തരിതശിലകൾ, ധാതുക്കൾ, ശിലാമണ്ഡലം, അവസാദശിലകൾ, ശിലകൾ)

1. ഭൂവൽക്കത്തെയും മാന്റിലിന്റെ ഉപരി ഭാഗത്തെയും ചേർത്ത്..... എന്നു പറയുന്നു?
2. കൊണ്ട് നിർമ്മിക്കപ്പെട്ടിരിക്കുന്ന തിനാലാണ് ശിലാമണ്ഡലത്തിനു ആ പേര് ലഭിച്ചത്...
3. ശിലകളിൽ അടങ്ങിയിരിക്കുന്ന ഘടകങ്ങളാണ്.....?
4. അടുക്കു ശിലകൾ എന്നറിയപ്പെടുന്നത് ശിലകളാണ്?
5. കേരളത്തിൽ കൂടുതൽ കാണപ്പെടുന്നത്..... ശിലകളാണ്.?



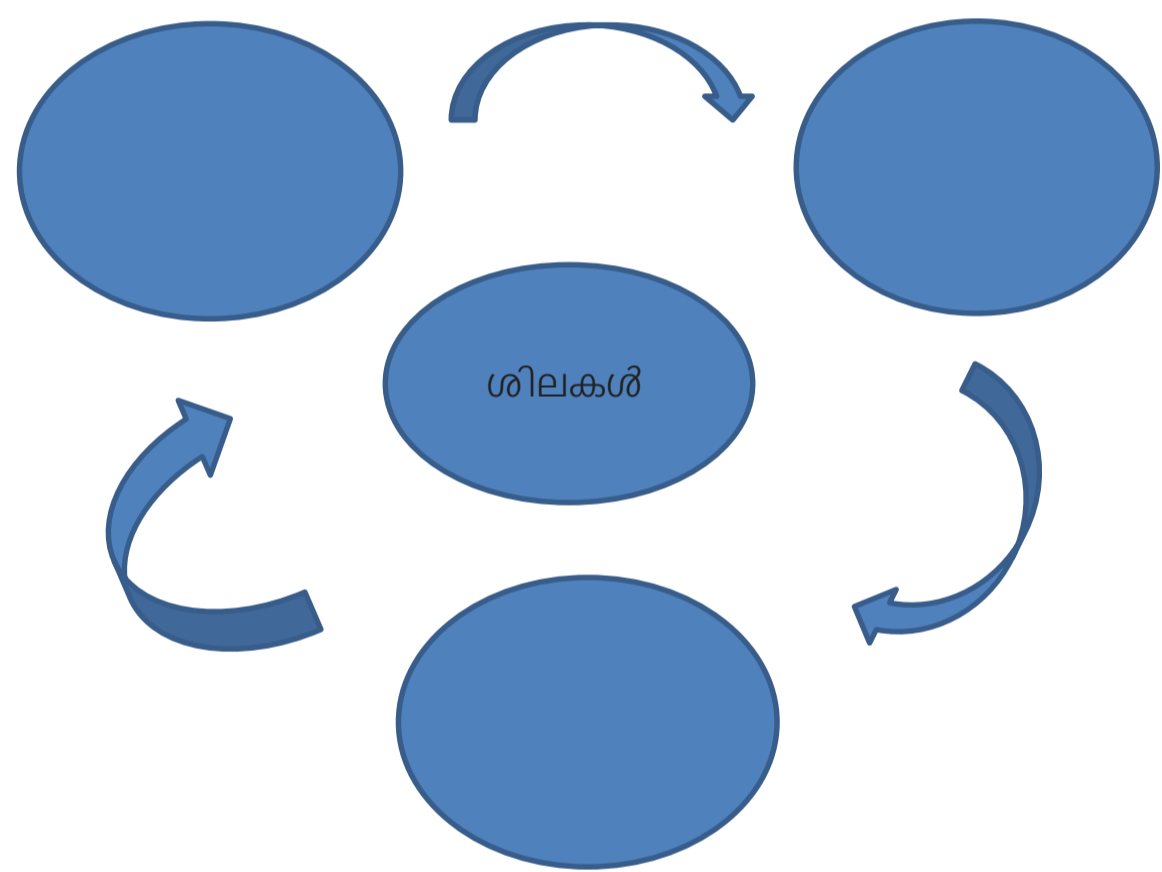
ജില്ലയുടെ പേര് : ആലപ്പുഴ
 ബി.ആർ.സിയുടെ പേര് : ചേർത്തല

സ്റ്റാൻഡേർഡ് : 8
 വിഷയം : സോഷ്യൽ സയൻസ്
 യൂണിറ്റ് : 3
 പാഠം : ഭാരത രാജ്യത്തിന്റെ ഭൂമിശാസ്ത്രം
 വർക്ക് ഷീറ്റ് നമ്പർ : 6

വൈറ്റ് ബോർഡ് ഷീറ്റ്

തുടർച്ച

1 (തന്നിരിക്കുന്ന വിവിധ ശിലകൾ ഉപയോഗിച്ച് ശിലാചക്രം നിർമ്മിക്കുക.)



രൂപം കൊള്ളുന്നതിന്റെ അടിസ്ഥാനത്തിൽ ചക്രം പൂർത്തിയാക്കുക.

(അവസാദശിലകൾ, ആഗ്നേയശിലകൾ, കായാന്തരിതശിലകൾ)



ജില്ലയുടെ പേര് : ആലപ്പുഴ
ബി.ആർ.സിയുടെ പേര് : ചേർത്തല

സ്റ്റാൻഡേർഡ് : 8
വിഷയം : സോഷ്യൽ സയൻസ്
യൂണിറ്റ് : 3
പാഠം : ഭൗമ രഹസ്യങ്ങൾ തേടി
വർക്ക് ഷീറ്റ് നമ്പർ : 7

വൈറ്റ് ബോർഡ് ഷീറ്റ്

തുടർച്ച

I കുറിപ്പ് തയ്യാറാക്കുക

- അവസാദശിലകൾ.
- ആഗ്നേയശിലകൾ.
- കായാന്തരിതശിലകൾ.



ജില്ലയുടെ പേര് : ആലപ്പുഴ
ബി.ആർ.സിയുടെ പേര് : ചേർത്തല

വൈറ്റ് ബോർഡ് ഷീറ്റ്

സ്റ്റാൻഡേർഡ് : 8
വിഷയം : സോഷ്യൽ സയൻസ്
യൂണിറ്റ് : 3
പാഠം : ഭൗമ രഹസ്യങ്ങൾ തേടി
വർക്ക് ഷീറ്റ് നമ്പർ : 8

തുടർച്ച

I. ഉത്തരം കണ്ടുപിടിക്കുക

1. ശിലകൾ പൊട്ടി പൊടിയുന്ന പ്രക്രിയയെ എന്ത് വിളിക്കാം

അപക്ഷയം

അപവർത്തനം



ജില്ലയുടെ പേര് : ആലപ്പുഴ
ബി.ആർ.സിയുടെ പേര് : ചേർത്തല

സ്റ്റാൻഡേർഡ് : 8
വിഷയം : സോഷ്യൽ സയൻസ്
യൂണിറ്റ് : 3
പാഠം : ഭൗമ രഹസ്യങ്ങൾ തേടി
വർക്ക് ഷീറ്റ് നമ്പർ : 9

തുടർച്ച

വൈറ്റ് ബോർഡ് ഷീറ്റ്

I. താഴെ കൊടുത്തിരിക്കുന്ന ചോദ്യങ്ങളുടെ ഉത്തരം ബ്രാക്കറ്റിൽ നിന്ന് തിരഞ്ഞെടുത്തു പൂരിപ്പിക്കുക.

1. ശിലകൾ പൊട്ടിപൊടിയുകയോ, വിഘടി ക്കുകയോ ചെയ്യുന്ന പ്രക്രിയ

2. അപക്ഷയ പ്രവർത്തനങ്ങൾ മനുഷ്യനെ സഹായിക്കുന്നു.

3. ഭൂമിയിൽ ജീവൻ ഉണ്ടാകുന്നതിനുള്ള പ്രധാന ഘടകം

4. ഒരിഞ്ചു കനത്തിൽ മണ്ണ് രൂപപ്പെടാൻ എത്ര കാലം വേണ്ടി വരും
.....

(മണ്ണ് ഉണ്ടാകുന്നതിന് , അപക്ഷയം, മണ്ണ്, ആയിരത്തിലധികം വർഷം)



ജില്ലയുടെ പേര് : ആലപ്പുഴ
ബി.ആർ.സിയുടെ പേര് : ചേർത്തല

വൈറ്റ് ബോർഡ് ഷീറ്റ്

സ്റ്റാൻഡേർഡ് : 8
 വിഷയം : സോഷ്യൽ സയൻസ്
 യൂണിറ്റ് : 3
 പാഠം : ഭൗമ രഹസ്യങ്ങൾ തേടി
 വർക്ക് ഷീറ്റ് നമ്പർ : 10

അവസാനം

I. (വേണമെങ്കിൽ സൂചന ഉപയോഗിക്കുക)

1. മണ്ണ് എങ്ങനെയാക്കെ സംരക്ഷിക്കാം?

1. -----
2. -----
3. -----
4. -----

- മരങ്ങൾ നട്ട് വളർത്തി
- തട്ടു കൃഷി നടത്തി
- തടയണ നിർമ്മിച്ചു
- വന നശീകരണം തടയുന്നത് വഴി